

京華中学校 入学試験問題 社会

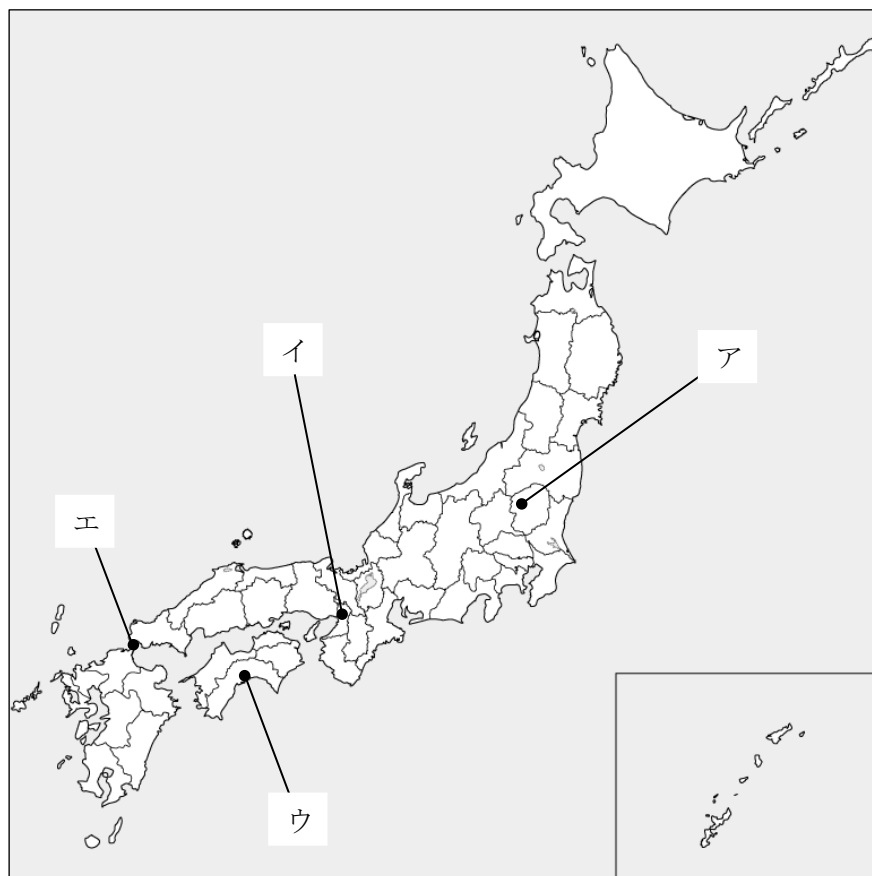
1 次の(1)～(5)は、それぞれ歴史上の戦乱に関する文です。これらの文を読み、あとの問いに答えなさい。

- (1) ①豊臣氏が滅んだ戦い。徳川家康が方広寺の鐘に刻まれた文の内容を問題にして、1614年に戦いがあった。一度は和議を結び、戦いは終わったが、すぐに破られ、翌15年の戦いで淀君と豊臣秀頼の母子が自害し、終結した。
- (2) 鳥羽・伏見の戦いから翌年の五稜郭の戦いまでの新政府と旧幕府勢力間の戦争。五稜郭の戦いで、旧幕府軍は降伏した。
- (3) 将軍の跡継ぎ争いと、畠山・斯波家の家督相継争いに、細川氏と山名氏が介入しておこった11年にわたる大乱。以降、将軍の権威は(②)。
- (4) 長門国における③源平最後の合戦。まだ幼かった安徳天皇とともに、平氏一門はここで滅んだ。
- (5) ④後鳥羽上皇が⑤幕府を倒そうとしておこした乱。執権の(⑥)義時は、上皇方を破った。乱後、幕府は朝廷に対して優位にたった。

問1 (1)～(5)で説明されている戦乱を、次のア～オの中から一つずつ選び、記号で答えなさい。

ア 大阪の陣 イ 承久の乱 ウ 応仁の乱 エ 戊辰戦争 オ 壇ノ浦の戦い

問2 (4)の戦いがおきた場所を、次の地図中のア～エの中から一つ選び、記号で答えなさい。



問3 下線部①に関連して、豊臣氏の政策として正しい史料(現代語になおしてある)を、次のア～エの中から一つ選び、記号で答えなさい。

ア 安土の城下町において、税はすべて免除する。商人は、安土の城下町に宿泊せよ。領国内に徳政令を出したとしても、安土の城下町は除外する。

イ 学問と武道に励むこと。居城を修理する場合でも、幕府に届け出ること。新しく城を築くことは禁止する。

ウ 諸国の百姓が武器の類を持つことは禁止する。その理由は、不必要な道具を持つと、年貢の納入をせず、一揆を企て武士に反抗するからである。

エ 生きものをあわれむようにと、前々から命令されていたが、下々の者には守られておらず、この頃、傷ついた犬を度々見かける。けしからぬことである。

問4 空欄（ ㉔ ）にあてはまるものを、次のア～ウの中から一つ選び、記号で答えなさい。

ア 落ちていった イ 上がっていった ウ 変わらず維持されていった

問5 下線部③について、この合戦で活躍した、源頼朝の弟は誰ですか。漢字3字で答えなさい。

問6 下線部④について、上皇が実権を握って政治を行うことを何といいますか。漢字2字で答えなさい。

問7 下線部⑤は何という幕府ですか。解答欄にしたがって漢字で答えなさい。

問8 空欄（ ㉕ ）にあてはまる語句を、漢字2字で答えなさい。

問9 （1）～（5）の文の出来事を古い時代順に並べたときに、5番目にくるものと最も関連のある写真を、次のア～エの中から一つ選び、記号で答えなさい。

ア




イ



ウ



エ



2 次の文を読み、あとの問いに答えなさい。

宇宙から見た①地球は青く、水の惑星たふしとされています。しかし、地球上にある水のうち大部分は海水であり、人が利用できる水は全体の0.01%しかありません。利用することができる水の量が少ないことから、世界各地では水に関する様々な問題がおこっています。

例えば、一人あたりの年間に使用する水の量が少なく、生活に不便を感じる人々が多いと、②水ストレスウォーター・ストレスが高くなります。日本は、年間降水量が多い③気候で、上下水道も整備されているので、水ストレスとは関係のない国だと思ってしまうかもしれませんが、「④人が実際に利用できる水の量」から見てみると必ずしもそうとは言いきれません。

日本は世界平均の約2倍の年間降水量がありますが、その降水の全部を活用することはできません。その具体例の一つとして、⑤水害が挙げられるでしょう。平野は多くの人口が集まり、⑥稲作もさかんですが、たびたび川が氾濫はんらんして被害ひがいにあつてきた地域もあるのです。

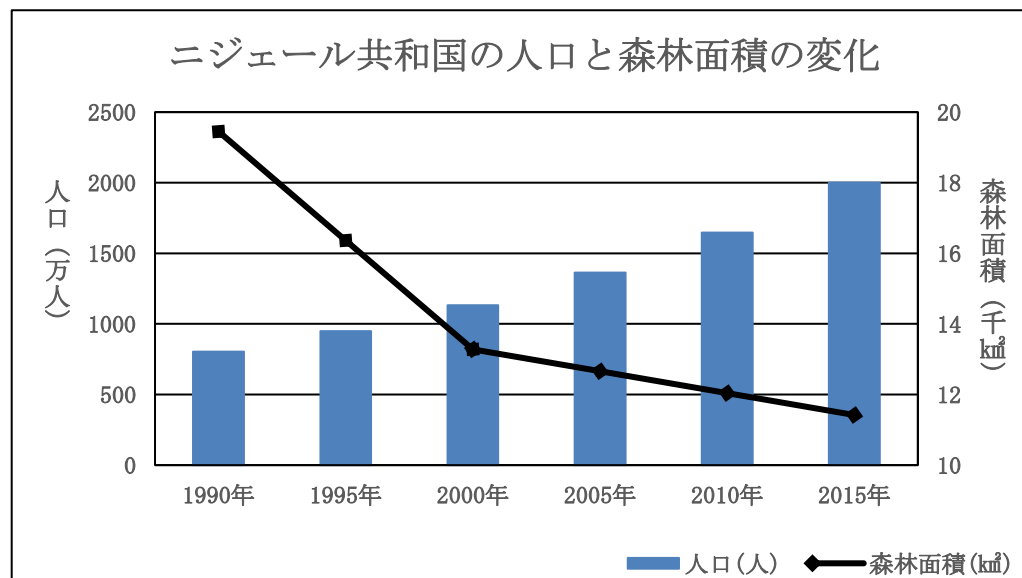
水資源に関わる問題は、飲料水や生活用水以外にもあります。日本の家庭では、一日に一人あたり約245リットルを使用していると言われていますが、実際に目に見える水以外にも、海外から輸入している食料を、⑦「目に見えない水資源」として消費しているのです。これはいったいどういう意味でしょうか。食料の原料となる穀物や家畜かちくを育てるためには水が欠かせません。食料を海外から輸入するということは、そのまま日本が海外の水資源を利用しているということになるのです。

日本は、食料を通じて海外から大量の水資源を輸入することで、知らず知らずのうちに世界の水不足の原因を作っているかもしれません。私たちは、水は飲めて当たり前、使えて当然と思いがちですが、水も限りある資源なのです。世界的な水不足が叫こゝろばれている中で、「目に見えない水資源」の考え方を持つことは、⑧SDGsにもとづいて私たち一人ひとりが水の使い方に自覚を持ち、水の有効な使い方を考えるきっかけになるのではないのでしょうか。

問1 下線部①について、地球の面積のうち海の面積の割合として正しいものを、次のア～エの中から一つ選び、記号で答えなさい。
ア 3割 イ 5割 ウ 7割 エ 9割

問2 下線部②について、水ストレスが非常に高い国の一つとして、アフリカのニジェール共和国があります。ニジェール共和国が水ストレスで苦しむ理由として、次の【グラフ】から読み取れることとして間違っているものを、次のア～エの中から一つ選び、記号で答えなさい。

【グラフ】

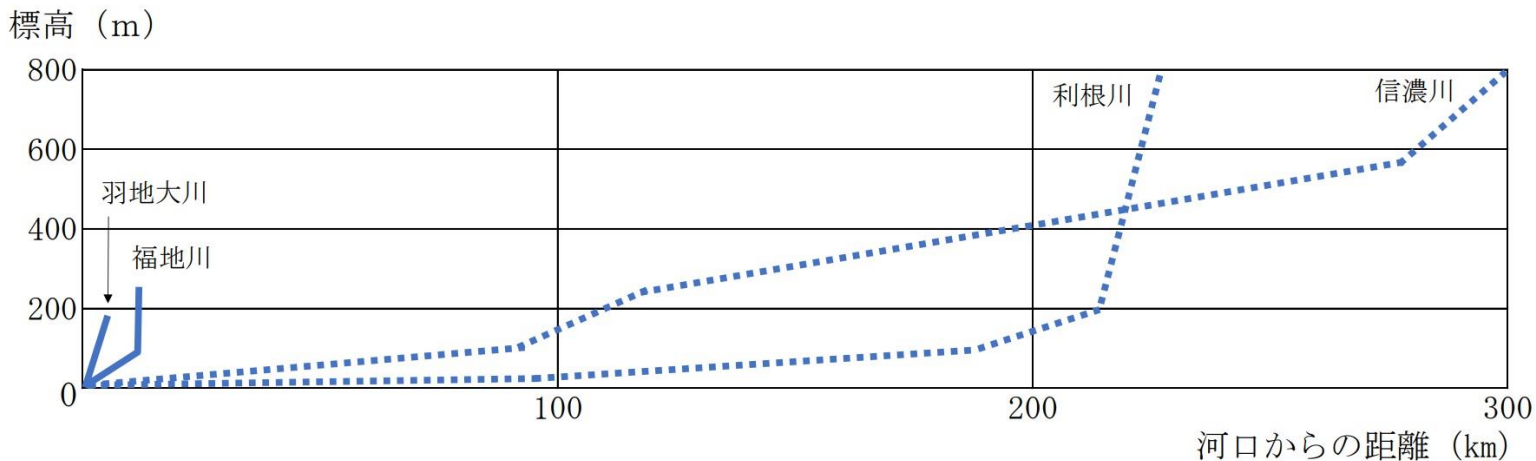


- ア 1990年から2015年で人口が2倍以上に増えているので、一人あたりが飲める水の量が少ないと考えられる。
イ 森林面積が半分以下に減っているので、砂漠化が進んで、保水力が減っていると考えられる。
ウ 一人あたりの水の量が少ないので、水をめぐって争いが起きる可能性がある。
エ 1990年代より、2000年代の方が森林面積減少のペースが速くなっている。
- 問3 下線部③について、日本国内の気候を説明した文として正しいものを、次のア～エの中から一つ選び、記号で答えなさい。
ア 北海道は、梅雨ははっきりとみられないが、台風の被害を受けやすい。
イ 新潟県は、冬に太平洋からの季節風が吹くことで、雪が多くなる。
ウ 愛媛県は、中国山地と四国山地に囲まれているため、晴れの日が多くなる。
エ 岩手県は、冬にやませと呼ばれる風が吹くことで、冷え込む日が多くなる。

問4 下線部④について、沖縄県は多くの雨が降りますが、日本で最も「人が実際に利用できる水の量」が少ない都道府県となっています。この【理由】について、以下の空欄に入る文を、沖縄県を流れる羽地大川や福地川と、本州の川を比較した【図】に注目して、20字以内で答えなさい。(ただし、句読点も1字にふくまれます。)

【理由】沖縄県の土地は標高が低く川の長さが短いため、から。

【図】



「内閣府 沖縄総合事務局 北部ダム統合管理事務所」のHPより作成

問5 下線部⑤について、天気や天候などを予測し、水害などの災害が発生する恐れがあるときに、特別警報などを発令する省庁を何といますか。漢字3字で答えなさい。

問6 下線部⑥について、ブランド米として知られ、越後平野をはじめとして全国で最も作付けが多い稲の品種を答えなさい。

問7 下線部⑦について、このような水のことを「バーチャルウォーター(仮想水)」といます。以下の【表】は、ハンバーガー1個と親子丼1杯ができるまでに必要となるバーチャルウォーターの量を表したものです。【表】を読み取った内容やその理由として間違っているものを、次のア～エの中から一つ選び、記号で答えなさい。

【表】

ハンバーガー1個に含まれるバーチャルウォーター

材料	重さ (1個あたり)	バーチャルウォーター量
牛肉	50 グラム	1030 リットル
トマト	50 グラム	6 リットル
パン	50 グラム	80 リットル

親子丼1杯に含まれるバーチャルウォーター

材料	重さ (1杯あたり)	バーチャルウォーター量
とり肉	50 グラム	225 リットル
たまねぎ	50 グラム	8 リットル
ごはん	100 グラム	370 リットル

「環境省 仮想水計算機」のHPより作成

ア パン50グラムとごはん50グラムのバーチャルウォーター量を比べると、ごはんの方が多くなる。

イ トマトよりたまねぎのバーチャルウォーターの量が多いのは、たまねぎを育てるための水がより多く必要だからである。

ウ とり肉のバーチャルウォーターの量が野菜より多くなるのは、ニワトリの飼育に野菜や水が必要だからである。

エ 牛肉のバーチャルウォーターの量がとり肉よりも多くなるのは、牛の方が多く飼育されているからである。

問8 下線部⑧について、この名称を何といますか。解答欄にあてはまるように、漢字4字で答えなさい。