

京華中学校 入学試験問題 社会

1 次の新聞記事を読んであとの問いに答えなさい。

財務省と①日銀は28日、新紙幣を2024年7月前半をメドに発行すると発表した。デザイン刷新は04年以来20年ぶり。1万円札は「日本の資本主義の父」と称される【A】をえがいた。偽造防止に加え、経済効果も期待される。

…略…

【A】は第一国立銀行（現みずほ銀行）はじめ数多くの企業を設立した。1万円札の肖像画の変更は②聖徳太子から③福沢諭吉になった1984年以来となる。

5千円札は④樋口一葉から【B】になる。津田塾大学の創始者で女性の英語教育に注力した。

1千円札は⑤野口英世から北里柴三郎に変わる。日本の近代医学の父として知られ、国内外の感染症予防や治療に貢献した。ペスト菌を発見した功績もある。

裏の図柄は1万円札が東京駅舎、5千円札が藤の花、1千円札が葛飾北斎の名画「富嶽三十六景」のひとつ「⑥神奈川冲浪裏」となる。

…略…

新紙幣には肖像画を立体的に見せるホログラム技術を導入する。紙幣では世界初だ。⑦視覚障害者に配慮し、触ることで識別しやすくした。金額の表記は漢字より洋数字を大きくした。

…略…

日本は紙幣の流通量が多い。国際決済銀行（BIS）によると、21年の流通額は名目の⑧国内総生産比で20%を超えていた。米国や英国は10%を下回っており、現金大国といえる。

海外でも紙幣刷新の動きはある。欧州中央銀行（ECB）は24年までに【C】の新紙幣を考案する計画だ。英国のイングランド銀行（中央銀行）は22年12月に⑨チャールズ国王をえがいたポンドの新デザインを公表。24年半ばまでに流通する見通しだ。

日本経済新聞電子版（2023年6月30日朝刊）

問1 下線部①の日銀とは、日本銀行のことですが、この銀行の役割について誤っているものを、次のア～エの中から一つ選び、記号で答えなさい。

- ア 政府のお金の出し入れをする。
- イ 一般の銀行とお金のやりとりをする。
- ウ 紙幣（日本銀行券）を発行する。
- エ 増税をすることで、景気をコントロールする。

問2 空欄【A】にあてはまる人物名を漢字4字で答えなさい。

問3 下線部②が示した、仏教や儒学の考えを取り入れ、天皇の命令にしたがうべきことなどが条文に記されている役人の心構えを答えなさい。

問4 下線部③の説明として、正しいものを、次のア～エの中から一つ選び、記号で答えなさい。

- ア 「天は人の上に人を造らず、人の下に人を造らずと云へり」から始まる『学問のすゝめ』を著した。
- イ 征韓論の主張が通らず、鹿児島に土族におされて、西南戦争をおこした。
- ウ ヨーロッパにわたり各国の憲法や議会政治のようすを調べ、のちに初代内閣総理大臣となった。
- エ のちの早稲田大学となる学校をつくり、立憲改進黨を結成し、その党首に就任した。

問5 下線部④が執筆した作品として、正しいものを、次のア～エの中から一つ選び、記号で答えなさい。

- ア 『たけくらべ』
- イ 『君死にたまふことなかれ』
- ウ 『一握の砂』
- エ 『坊っちゃん』


問6 空欄【B】にあてはまる人物名を漢字4字で答えなさい。

問7 下線部⑤の説明として、正しいものを、次のア～エの中から一つ選び、記号で答えなさい。

- ア イギリスと交渉して、領事裁判権の廃止を実現した。
- イ 赤痢菌を発見した細菌学者として知られている。
- ウ 黄熱病の研究中に自身も黄熱病に感染し、アフリカの地で亡くなった。
- エ 全財産を投げうって、足尾鋇毒事件の解決に全力を注いだ。

問8 下線部⑥の作品として、正しいものを、次のア～エの中から一つ選び、記号で答えなさい。


ア




イ



ウ



エ




問9 下線部⑦について、あなたの身の周りにある、視覚障害者に配慮した工夫がなされているものを、10字以内で一つ挙げなさい。
ただし、記事の内容以外のものとする。

問10 下線部⑧をアルファベット3字で答えなさい。


問11 空欄【 C 】にあてはまる語句は、「€」の単位で表すことができる。【 C 】にあてはまる語句を答えなさい。

問12 下線部⑨の人物として正しいものを、次のア～エの中から一つ選び、記号で答えなさい。


ア




イ



ウ



エ



2 次の文を読んであとの問いに答えなさい。

今この問題を解いている受験生の皆さんは、およそ12年間生きてきました。皆さんがこれまで大きく成長してきた間に、社会も大きな変化をとげてきました。ここでは、これまでの12年間でどのような出来事があったかを振り返りながら、その背景にある社会の仕組みや、解決していかなければいけない課題について考えていきましょう。

I

2011年3月、まだ皆さんが生まれる少し前、東日本大震災が発生しました。死者・行方不明者は1万人以上となり、戦後最悪といわれる災害となりました。地震そのものはもちろん、①二次災害による犠牲者もとても大きなものでした。皆さんは、そんな激動の時代に生まれたのです。このとき、外国からは日本人の行動が評価されました。震災の混乱で町が混み合う中でも落ち着いて行動し、順番を守るなど、マナーのよさが注目されたのです。

この話に関連するのですが、2012年に中学校の体育の授業で変化があったことを皆さんは知っていますか？実はこの年に、授業内で②武道を行うことが必修化されたのです。京華中学校でも、週に1時間かならず武道の授業があります。なぜ、武道を学校で学ぶのでしょうか？勝敗を競い合う楽しさや喜びを味わうことも魅力ですが、稽古を通じて得られる礼やマナーを理解する大切な機会となっているからです。東日本大震災で日本人が見せた礼やマナーは、古来より日本人が受け継いできた文化と言えるのではないのでしょうか。

文化の観点では、2013年に富士山が③世界遺産に登録されたことにもふれておきましょう。日本人にとって、富士山は日本の象徴ともいえるものだからです。その雄大な姿を見て、昔から日本人は富士山を信仰の対象としたり、芸術作品に残したりしてきました。世界遺産に登録された際に富士山におくられた「信仰の対象と芸術の源泉」という言葉からも、未来に受け継ぐべき世界の宝として、富士山を守っていくことが求められています。

問1 下線部①について、二次災害とは、最初に起こった災害がきっかけとなり、さらに別の災害が起きることを言います。地震による二次災害の例として、誤っているものを、次のア～カの中から一つ選び、記号で答えなさい。

ア 津波 イ 大雪 ウ 火災 エ 地割れ オ 余震 カ 液状化現象

問2 下線部②について、剣術や柔術は、武士にとって身につけておかななくてはならないものでした。しかし、こうした訓練が実戦で使われることは次第になくなり、剣術には竹刀が使われるようになりました。このように武術は、現在の岐阜県を主戦場として行われた大きな戦いの結果、武道に変わっていったともいえるでしょう。この戦いを何といいますか。【資料1】も参考にして、解答欄にしたがって答えなさい。

【資料1】それぞれの年代における戦いの数

西暦	時代区分	戦いの数
1301年～1400年	鎌倉時代～南北朝時代～室町時代	10
1401年～1500年	室町時代～戦国時代	10
1501年～1600年	戦国時代～安土・桃山時代	28
1601年～1700年	安土・桃山時代～江戸時代	6
1701年～1800年	江戸時代	3

※「戦いの数」は、帝国書院『図説日本史通覧』の年表を参考に作成した。

問3 下線部③に関する文として、正しいものを、次のア～エの中から一つ選び、記号で答えなさい。

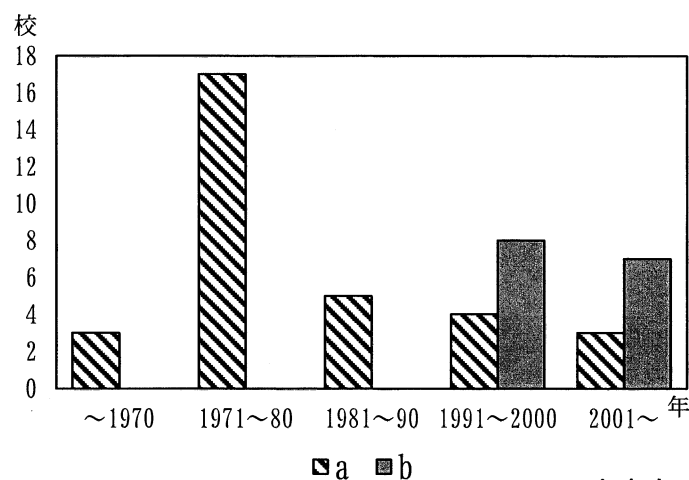
- ア 富士山は、世界遺産の中でも、特に自然遺産として登録された。
 イ 姫路城のように、自然地形ではないものも世界遺産として認定できる。
 ウ 富士山は、世界遺産として守るために登山が禁止されるようになった。
 エ 世界遺産にふさわしいかを調べ、認定している機関のことをUNICEFという。

II

次は、皆さんの日常生活の中に起こった大きな変化にもふれていきましょう。2015年には、④制度が導入されました。これまでは、引っ越しをするときに役所に行ったり、病院で健康保険証を出したりと、様々な場面で私たちは自分の身分を証明する必要がありました。④カードが1枚あれば、面倒だったこれらの手続きが簡単にできるようになるといわれています。しかし、カードを無くしてしまったり盗まれてしまったりしたときに、⑤が悪用されるかもしれない、という不安の声もあります。そんな中、2016年に総務省は、65歳以上の⑥人口が総人口の4分の1を超えたと発表しました。日本は、世界一の高齢社会であると同時に、生まれる子どもの数も減っている少子化の問題も同時に抱え、対策を急ぐ必要性がさげばれています。

- 問4 空欄④にあてはまる語句を、6字で答えなさい。
- 問5 空欄⑤にあてはまる、特定の人の氏名や住所、生年月日などのデータを表す語句を、漢字4字で答えなさい。
- 問6 下線部⑥について、【資料2】は東京都多摩市の小学校数の変化を年代別に示したものです。【資料2】について説明した次の文章中の空欄< A >と空欄< B >に当てはまる語句の組合せとして正しいものを、次のア～エの中から一つ選び、記号で答えなさい。

【資料2】多摩市の小学校数の変化



※多摩市のホームページを参考に作成した。

【資料2について説明した文章】

多摩市は、< A >期に建設されたニュータウンの中でも、1971年に最初の入居が始まった地区です。多摩市内ではその後もニュータウンの開発が進みましたが、1990年代に入ると新たな開発はあまり行われなくなりました。そしてここ数年では、初期に入居が始まった地区で、高齢化による様々な問題が発生しています。このような背景を考えると、aとbのうち、< B >が開校数を、もう一方が閉校数を表したものだということがわかります。

	ア	イ	ウ	エ
< A >	高度経済成長	高度経済成長	バブル経済	バブル経済
< B >	a	b	a	b

Ⅲ
さて、ここまで皆さんがまだ小さいころの出来事を振り返ってきましたが、最後に皆さんにとって比較的近くの記憶として残っていることを取り上げましょう。2019年、元号が平成から令和へと変わりました。このとき、天皇が活着しているうちに次の天皇に地位をわたす「⑦譲位」が実に約200年ぶりに行われたのです。明治時代になってからこの時まで、天皇は生前に退位することができなかったため、歴史が大きく変わった瞬間でした。さらにその翌年の2020年には⑧新型コロナウイルス感染症の拡大が起これ、社会の常識も大きく変化することになりました。皆さんもマスクを着用した学校生活を送るなど、今までの日常生活の「当たり前」の姿が変化する経験を数多くしてきたと思います。新しい時代の暮らし方が求められ、新しい歴史が生まれていく瞬間に、皆さんは常に立ち会っているといえるでしょう。

- 問7 下線部⑦について、明治時代以前では譲位はそれほどめづらしいことではありませんでした。たとえば、平安時代に生きた白河天皇は、自分の子に天皇の地位を譲り、上皇として政治の実権をにぎりました。このような政治のありかたを何といいますか。漢字2字で答えなさい。
- 問8 下線部⑧について、新型コロナウイルス感染症をめぐって変化したことに関する文として正しいものを、次のア～エの中から一つ選び、記号で答えなさい。
- ア 感染を避けるためにお店に行く人が減ったが、キャッシュレス決済が使えるので、どのお店も売り上げが下がらなかった。
- イ テレワークをすることで出社する必要が無くなったため、会社内での働き方改革がまったく進まなくなってしまった。
- ウ どの家庭にも高速のインターネット回線があるので、誰もがスムーズにオンライン授業を受けることができた。
- エ 病原体に対する不安や恐怖から、事実とは全く関係がない偏見やデマが数多く流れ、社会問題となった。

京華中学校 入学試験 社会解答用紙

1

問1 問2

問3 問4

問5 問6

問7 問8

問9

問10 問11

問12

2

問1

問2 の戦い

問3 問4

問5 問6

問7 問8

社 会	学校名	受験番号	フリガナ
	立 小学校		氏名