

京華中学校 入学試験問題 社会

1 次の文を読んであとの問いに答えなさい。

京華中学・高等学校に入学すると、さまざまな場所に宿泊行事に行くことになります。以下は、それぞれの行事に参加した生徒たちの声をまとめたものです。生徒たちが行事を通して、どのように成長していったのかを考えてみましょう。

【中1白樺オリエンテーション】
 京華中学に入って初めての宿泊だったので、とても緊張していました。ハイキングは大変だったけれど、①白樺湖で取り組んだ「ぶちアドベンチャー」を通して、友達との仲が深まりました。

【中2イングリッシュキャンプ】
 ②京華中学校からそれほど遠くない都内の施設に宿泊し、3日間ずっと英語ばかりの生活でした。大変だったけれど、ネイティブの先生たちとたくさんコミュニケーションを深めることができ、英語を話す自信につながりました。

【中3シンガポール研修旅行】
 僕にとって初めての海外旅行でした。③シンガポールは赤道の近くにある小さな国で、とても暑かったです。現地の大学生と一緒に市内を見学したのですが、④日本に四季があることを「とてもうらやましい」と言っていました。

【高1オリエンテーション合宿】
 高校に入ってすぐに、湯河原に宿泊しました。この合宿では高入生とも一緒になり、新しい仲間が増えました。2日目に⑤静岡県の熱海の街ではウォークラリーをやって、新しい友達を作ることができました。

【高1水上体験旅行】
 高校の新しいクラスになじんだ頃に、⑥群馬県の水上市へ体験旅行に行きました。最大のイベントは、(⑦)の上流で行うラフティングです。ドキドキしながら、一緒にボートで川を下り、終わった時の達成感は格別でした。

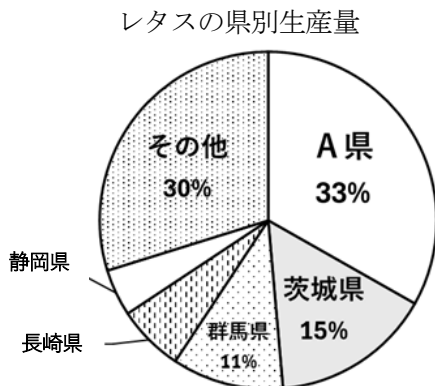
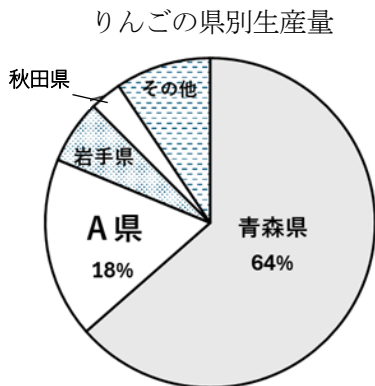
【高2沖縄研修旅行】
 高校2年生はタイと⑧沖縄に分かれて研修旅行に行きますが、私は沖縄を選びました。首里城では沖縄の歴史、⑨ひめゆりの塔や平和の礎では戦争について学びました。80年前のことも、決して忘れてならないと誓いました。

【高2タイ研修旅行】
 タイでは、現地の大学生と市内見学をしました。タイには熱心な⑩仏教徒が多いことを知りました。また、アユタヤという17世紀の遺跡に行き、日本人町の跡も見学しました。時間と世界の広がりを感じて、とても勉強になりました。

【オーストラリア夏季海外研修】
 夏休みに2週間のホームステイに参加しました。英語で話せるかどうかとても不安な中、⑪現地の学校で同年代の生徒と一緒に授業を受けました。英語が苦手でも会話するのが大変でも、人とつながることの大切さを実感しました。

【他にもいろいろあるよ!】
 中学生は、希望者が志賀高原のスキー教室に参加、中3の国際先進クラスは「セブ島語学研修」、高1・高2では希望者が「ベトナム スタディーツアー」に参加します。いろいろな人や地域との交流を楽しんで、成長していこう!

問1 下線部①について、この湖はA県にあります。次の3つの資料を参考に、A県として正しいものを、下のア～エから1つ選び記号で答えなさい。



都道府県別平均寿命

	男性	女性
1位	滋賀県 82.73歳	岡山県 88.29歳
2位	A県 82.68歳	京都府 88.26歳
3位	奈良県 82.40歳	滋賀県 88.25歳
4位	京都府 82.24歳	A県 86.23歳
5位	神奈川県 82.04歳	熊本県 86.22歳

農林水産省「作物統計」(2024年)より作成

厚生労働省「平均寿命の令和4年値について」(2024年)より作成

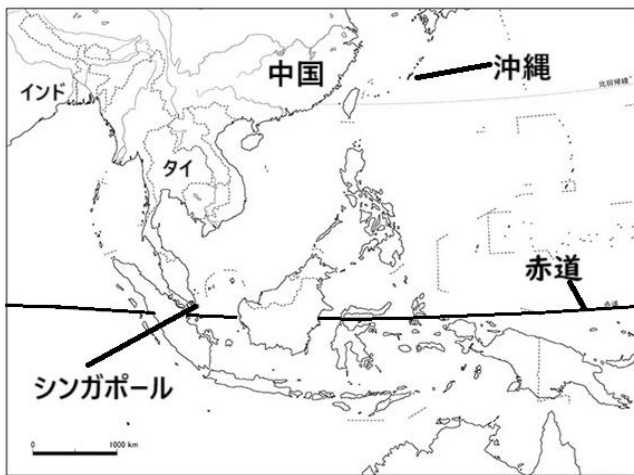
ア. 山梨県 イ. 山形県 ウ. 長野県 エ. 岐阜県

問2 下線部②について、京華中学校の創立は明治30(1897)年です。京華中学校の創立にもっとも近い時期におこった出来事の説明として正しいものを、次のア～エから1つ選び記号で答えなさい。

- ア. 自由民権運動が活発になり、伊藤博文や大久保利通が明治政府と対立して西南戦争をおこした。
- イ. 関東大震災がおこり、お茶の水にあった京華中学校の校舎も焼失してしまった。
- ウ. 太平洋戦争がはじまり、京華中学校でも生徒向けに軍事訓練がおこなわれるようになった。
- エ. 日清戦争が終わり、九州に八幡製鉄所が完成して、日本の重工業発展の基礎となった。

問3 下線部③について、この国に関する資料A～Dを参考に誤っている説明を、下のア～エから1つ選び記号で答えなさい。

資料A：シンガポールの場所



資料B：シンガポール中心部の様子



資料C：シンガポールの略年表

18世紀	イギリスがシンガポール島を購入 →港が開かれ、イギリスの植民地となる
1942年	日本軍が占領
1945年	日本軍が撤退 →イギリスの統治が復活
1963年	マレーシア連邦として独立
1965年	マレーシアから独立
1990年代まで	大きく経済発展。 →新興工業経済地域(アジアニース)と呼ばれる。

資料D：一人あたりのGDP 国別ランキング (IMF 推計、2024年)

順位	国名	一人あたり GDP (ドル)
1	ルクセンブルク	137,516
2	アイルランド	107,316
3	スイス	103,670
4	シンガポール	90,674
5	アイスランド	87,205
7	アメリカ合衆国	85,812
38	韓国	34,640
40	日本	33,960

ア. シンガポールはインド洋と南シナ海をつなぐ重要な場所にある港を持ち、交易に有利であった。
 イ. シンガポールでは英語が公用語となっているが、それは歴史的な影響がかかわっていると考えられる。
 ウ. シンガポールは独立後にめざましい経済発展をとげ、一人当たりのGDPはアジアでトップである。
 エ. シンガポールは地震が多いため、津波の被害をおさえるために高いビルは内陸部に建てられている。

問4 下線部④について、シンガポールの気候と比べると、日本は時期や地方によってさまざまな変化にとんだ季節があります。日本の気候について述べた文として誤っているものを、次のア～エから1つ選び記号で答えなさい。

- ア. 瀬戸内海では、中国山地と四国山地によって季節風がさえぎられるため、夏も冬も降水量が多くなる。
- イ. 東北地方の太平洋側では、夏にやませと呼ばれる冷たい北東風が吹くことがあり、冷害の原因になっている。
- ウ. 北陸などの日本海沿岸の地域では、冬になると大陸からの季節風が山地にさえぎられるため、大量の雨や雪が降る。
- エ. 日本列島は東西南北に長く、地形が豊かで自然や季節の変化を味わい楽しむことができる。

問5 下線部⑤について、静岡県の説明として正しいものを、次のア～エから1つ選び記号で答えなさい。

- ア. 山地が多く農地が不足しているため、農業はまったくおこなわれていない。
- イ. 浜松市では、海に近い水産業が中心となっており、工場はほとんどない。
- ウ. 温暖な気候と傾斜地を利用して、お茶やみかんの栽培がおこなわれている。
- エ. 県の東に位置する浜名湖ではうなぎの養殖が有名である。

- 問6 下線部⑥に関連して、県内の太田市などでは、近年南米出身の外国人が多く住み、産業を支える貴重な労働力となっています。この理由として正しいものを、次のア～エから1つ選び記号で答えなさい。
- ア. 自動車の部品などを生産する工場が多くあり、日本人だけでは労働力が不足しているから。
 - イ. 近年のインバウンドにより外国人観光客が増えたため、案内役として外国人が必要だから。
 - ウ. 物流の中心として発展してきた臨海工業地域に近いから、運送業で人手が不足しているから。
 - エ. 都市部に近く農地が少ないため、主にサービス業に外国人が従事しているから。
- 問7 空欄(⑦)に当てはまる千葉県銚子市を河口とする川の名称を、漢字3字で答えなさい。
- 問8 下線部⑧について、沖縄県の説明として正しいものを、次のア～エから1つ選び記号で答えなさい。
- ア. 台風の通り道になることが多く、冬は農作物が被害を受けることがある。
 - イ. 温暖化が進行したことで海水温が上がり、サンゴなどが被害を受けている。
 - ウ. 日本でただ一つの自然遺産があり、多くの観光客が訪れている。
 - エ. 温暖な気候を利用して、小麦や大豆の生産量が全国上位である。
- 問9 下線部⑨について、京華高校では研修旅行の時に、ここで「千羽鶴」をささげて黙とうをします。なぜこのようなことをしているのでしょうか。その説明として考えられるものを、次のア～エから1つ選び記号で答えなさい。
- ア. 70年前、太平洋戦争の末期に戦場となり、数十万人が命を落としたから。
 - イ. 80年前、アメリカ軍の攻撃で激しい地上戦となり、多くの民間人が亡くなったから。
 - ウ. 米軍基地が島内の多くの地域にあり、地元住民との衝突で複数の人が命を落としたから。
 - エ. 世界で初めて核兵器が使用され、十万人以上の方が亡くなったから。
- 問10 下線部⑩に関連して、タイと同じく日本にも多くの仏教寺院があります。その歴史についての説明として正しいものを、次のア～エから1つ選び記号で答えなさい。
- ア. 仏教を伝えるために日本に来た鑑真は、鎌倉に唐招提寺を開いた。
 - イ. 仏教を政治の基本にしようとした聖徳太子は、奈良に東大寺を開いた。
 - ウ. 仏教の力で国を治めようとした聖武天皇は、飛鳥に法隆寺を開いた。
 - エ. 仏教を学ぶために中国に渡った最澄は、比叡山に延暦寺を開いた。
- 問11 下線部⑪について、京華中学校は「夏休み」ですが、オーストラリアでは通常の授業が行われています。その説明として正しいものを、次のア～エから1つ選び記号で答えなさい。
- ア. オーストラリアは非常に勉強熱心な国なので、夏休みでもずっと夏期講習をしているから。
 - イ. オーストラリアは非常に教育に厳しい国なので、一年中同じように通常の授業がおこなわれているから。
 - ウ. オーストラリアは南半球に位置しているため、日本とは曜日や月の数え方が異なるから。
 - エ. オーストラリアは南半球に位置しているため、日本と季節が逆で、この時期は通常の授業がおこなわれているから。
- 問12 宿泊行事を通して、京華はどのような「生徒の成長」を期待しているのでしょうか。その説明としてもっとも近いものを、次のア～エから1つ選び記号で答えなさい。
- ア. たくさんの宿題を課し学力を向上させて、将来の進路が確約されることを求めている。
 - イ. さまざまな経験を通して知識を深め、先生の指示にしたがって従順に生きる姿勢を大切にしている。
 - ウ. 仲間との体験を通して人間関係を深め、海外の人との交流を通して広い視野を身につけることを求めている。
 - エ. 自分の意見にこだわり、どんな場面でもまわりに相談せず行動するような強い意志を大切にしている。

2 次の会話文を読んであとの問いに答えなさい。

京太郎：TPPは「環太平洋」という名称なのに、なぜか(①)に面しているイギリスが加入したんだって。イギリスは、(②)から脱退したこともあり、その影響もあるのかな。

先生：そのことも関係してそうですね。TPPは、太平洋の周りの国を中心とした、巨大な自由貿易圏を作るのが目標でした。しかし、2018年の発効直前、③アメリカが離脱してしまいました。その後、「包括的及び先進的な環太平洋パートナーシップ協定」(CPTPP)に名称を変えました。広範囲からの加入を歓迎する意図が込められていると言われてます。加盟を申請した国の中で、ウクライナやウクライナも「環太平洋」ではありません。

京太郎：ウクライナも加盟を申請しているのですか。

先生：そうですね。正式に加盟を申請したことが明らかになりました。ウクライナは④農業大国ですが、ロシアによる侵攻で、(⑤)が一時閉鎖されるなどして、輸出先の安定確保が課題となりました。TPPへの加入により、新たな販路を求めることで、「国内向けに対策を取っていることをアピールしたいのではないか」との見方があります。

京太郎：申請後は、どうやったら加入が決まるのですか。

先生：まずは、全ての加盟国が合意の上で審査が始まります。TPPでは加盟国間の(⑥)をなくし、貿易を自由にして経済の成長を目指そうという取り決めなので、(⑥)をなくせるかが大きなポイントになります。他にも、データの透明性の確保や国有企業の優遇措置の縮小など厳しいルールも多く、それを満たして、全ての加盟国が合意すれば加入が認められるのです。その一方、政治的な動きも見え隠れします。なぜなら安易に加入を認めれば、その前提となるルールが揺らぐのではないかと警戒する国も多いからです。例えば、加盟申請中の⑦中国は、国内企業への優遇措置があるなど、現状では加入が難しいと思われています。しかし、中国は貿易上の関係が深い、シンガポールやマレーシアからの支持を既に取り付けていたり、ニュージーランドも、中国との共同宣言で「(TPP)加入を歓迎する」と表明したようです。

京太郎：中国の加盟に慎重な国はどこですか。

先生：確か日本からそのようなコメントが聞かれました。当時の岸田首相が中国の申請に対し、「TPPの高いレベルを中国がクリアできるかどうか。なかなか不透明ではないか」と発言していました。他にもオーストラリアやカナダが慎重な姿勢のようですね。

京太郎：そうそう、アメリカがTPPに戻ることはないのですか。

先生：アメリカ国民の間には、過去の自由貿易協定が原因で製造業の海外流出を招き、その結果、アメリカ人の雇用を減らしたとの考えがあって、特に現政権では方針の転換はないとみられています。

京太郎：ところで、日本にとってTPP加盟で良い影響はあったのですか。

先生：農業分野では加入を機に、輸出競争力を高める政策に重点が置かれ、農産品の輸出額は、2022年度は過去最高額を更新したそうです。さらに2030年度までに5兆円とする目標もあり、いまのところは順調だと言えるのではないのでしょうか。一方、消費者が安い輸入品を買えるようになったかという点、必ずしもそうではないようです。輸入食品にかかる仕入れ額は、本来かかっていた(⑧)の分は安くなりますが、⑧円相場が(⑨)に推移したことで割高となってしまいました。また、ロシアの侵攻によって、世界的な原材料高になったことも要因となり、その恩恵が見えにくくなっているようですね。

京太郎：いずれにせよ、これから先も、どのような影響が見られるのか、しっかりと注視していく必要があるということですね。

先生：そうだと思います。加盟国全体に良い影響があることを願いたいものですね。

問1 空欄(①)に当てはまる大洋の名称を、漢字3字で答えなさい。

問2 空欄(②)に当てはまる語句として正しいものを、次のア～エから1つ選び記号で答えなさい。

ア. 欧州連合 イ. 世界貿易機関 ウ. 国際連合 エ. 世界保健機関

問3 下線部③に関して、日米間の歴史について誤っているものを、次のア～エから1つ選び記号で答えなさい。

ア. 1854年の日米和親条約で、日本はそれまでの鎖国をやめ、アメリカ船が日本に来ることを認めた。

イ. 1941年12月、日本の連合艦隊がハワイの真珠湾を攻撃し、それを機に両国は太平洋戦争に突入した。

ウ. 1945年、日本とアメリカはワシントンで平和条約を結び、翌年より日本は独立した。

エ. 1951年、日本とアメリカは日米安全保障条約を結び、アメリカ軍が引き続き日本に駐留することが認められた。

問4 下線部④について、日本の農業の特徴として正しいものを、次のア～エから1つ選び記号で答えなさい。

- ア. 日本の農業は戦後、コメ作中心で進められてきたが、後に減反政策がおこなわれた。
- イ. 日本の農産物の生産性は全般的に高く、現在でも食料自給率は100%を超えている。
- ウ. 日本の農業はコメの生産だけでなく、小麦やライ麦などの生産量も世界的に高い。
- エ. 日本の農業は広大な土地を有効利用しながら、コメ以外の農産物の生産にも力を入れてきた。

問5 空欄（⑤）に当てはまる海の名称を、それぞれの説明を参考にしながら、次のア～エから1つ選び記号で答えなさい。

- ア. 黒海 …… クリミア半島に面していて、この半島はかつて大きな戦地となった歴史がある。
- イ. 日本海 …… 対馬海流という暖流が流れている。
- ウ. 東シナ海 …… 海底資源などをめぐり、台湾、中国など領有権を主張する国が対立している。
- エ. 地中海 …… ユーラシア大陸やアフリカ大陸に囲まれており、近隣のヨーロッパ諸国は高緯度のわりに温暖な気候である。

問6 空欄（⑥）に当てはまる語句を、漢字2字で答えなさい。

問7 下線部⑦に関連して、日中間におけるA～Dの出来事を年代順に正しく並べたものを、次のア～エから1つ選び記号で答えなさい。

- A : 日本は中国と国交回復を宣言する日中共同声明を出した。 B : 日本は南満州鉄道爆破をきっかけに満州事変を起こした。
- C : 日本は盧溝橋事件をきっかけに日中戦争を起こした。 D : 日本と中国は日中平和友好条約を結んだ。
- ア. A⇒B⇒C⇒D イ. B⇒C⇒A⇒D ウ. D⇒C⇒B⇒A エ. A⇒B⇒D⇒C

問8 下線部⑧に関連して、為替相場の仕組みを説明した下記のヒントを参考に、以下の文の空欄（A）～（C）に当てはまる語句を、次のア～カから1つずつ選び記号で答えなさい。

例えば、日本円で1000円のプラモデルを海外に輸出するとしましょう。1ドル100円の場合では、（A）ドルという価格で輸出されることとなります。これが1ドル200円の場合では（B）ドルとなり、この商品の輸出競争力が高まったことを意味します。したがって、輸出に関しては、（C）の方が有利となるわけです。

《ヒント》○1ドルが100円 ⇒ 200円になった場合、円の価値が下がった・・・円安になった
○1ドルが200円 ⇒ 100円になった場合、円の価値が上がった・・・円高になった

- ア. 10 イ. 5 ウ. 円安 エ. 円高 オ. 20 カ. 50

問9 空欄（⑨）に当てはまる語句を、問8を参考にして漢字2字で答えなさい。